

EJERCICIOS RESUELTOS LUGARES GEOMÉTRICOS - CÓNICAS

Cuestión 1.-

Obtén la ecuación de la mediatriz del segmento de extremos $A(2, 3)$ y $B(4, 1)$.

Solución:

Los puntos $P(x,y)$ de la mediatriz cumplen que:

$dist(P, A) = dist(P, B)$, es decir:

$$\sqrt{(x-2)^2 + (y-3)^2} = \sqrt{(x-4)^2 + (y-1)^2}$$

Elevamos al cuadrado en los dos miembros y operamos:

$$\begin{aligned} x^2 - 4x + 4 + y^2 - 6y + 9 &= x^2 - 8x + 16 + y^2 - 2y + 1 \\ 4x - 4y - 4 &= 0 \quad \rightarrow \quad x - y - 1 = 0 \end{aligned}$$

Es una recta perpendicular al segmento AB , que pasa por su punto medio.

Cuestión 2.-

¿Cuál es el lugar geométrico cuya suma de distancias a los puntos $A(0, 1)$ y $B(0, -1)$ es 8?. Halla su ecuación.

Solución:

Es una elipse de focos A y B y constante $k = 8$. Hallamos su ecuación:

Si $P(x, y)$ es un punto del lugar geométrico, tenemos que:

$dist(P, A) + dist(P, B) = 8$, es decir:

$$\sqrt{x^2 + (y-1)^2} + \sqrt{x^2 + (y+1)^2} = 8$$

Elevamos al cuadrado y operamos para simplificar:

$$\sqrt{x^2 + (y-1)^2} = 8 - \sqrt{x^2 + (y+1)^2}$$

$$x^2 + (y-1)^2 = 64 + x^2 + (y+1)^2 - 16\sqrt{x^2 + (y+1)^2}$$

$$x^2 + y^2 - 2y + 1 = 64 + x^2 + y^2 + 2y + 1 - 16\sqrt{x^2 + (y+1)^2}$$

$$8\sqrt{x^2 + (y+1)^2} = 4y + 64$$

$$2\sqrt{x^2 + (y+1)^2} = y + 8$$

$$4(x^2 + y^2 + 2y + 1) = (y + 8)^2$$

$$4x^2 + 4y^2 + 8y + 4 = y^2 + 16y + 64$$

$$4x^2 + 3y^2 = 60. \text{ Dividimos entre 60:}$$

$$\frac{4x^2}{60} + \frac{3y^2}{60} = \frac{60}{60} \quad \rightarrow \quad \frac{x^2}{15} + \frac{y^2}{20} = 1. \text{ Es una elipse.}$$


Cuestión 3.-

Identifica y halla la ecuación del lugar geométrico de los puntos, P , del plano tales que su distancia a la recta $r_1: x + y + 1 = 0$ sea igual que su distancia a la recta $r_2: 2x + 2y + 4 = 0$.

Las dos rectas dadas,

$$r_1: x + y + 1 = 0 \text{ y } r_2: x + y + 2 = 0,$$

son rectas paralelas. Por tanto, el lugar geométrico pedido será otra recta, paralela a las dos, a igual distancia de ellas:



Hallamos su ecuación:

Si $P(x, y)$ es un punto del lugar geométrico, tenemos que:

$dist(P, r_1) = dist(P, r_2)$, es decir:

$$\frac{|x + y + 1|}{\sqrt{2}} = \frac{|x + y + 2|}{\sqrt{2}}$$

$$|x + y + 1| = |x + y + 2| \begin{cases} \rightarrow x + y + 1 = x + y + 2 \rightarrow 1 = 2 \rightarrow \text{Imposible} \\ \rightarrow x + y + 1 = -x - y - 2 \rightarrow 2x + 2y + 3 = 0 \end{cases}$$

Observamos que la recta obtenida es paralela a r_1 y r_2 .

Cuestión 4.-

Halla la ecuación de las bisectrices de los ángulos formados por las rectas $r_1: x + 3y - 1 = 0$ y $r_2: 3x - y + 4 = 0$.

Solución:

Los puntos $P(x, y)$ de las bisectrices cumplen que:

$dist(P, r_1) = dist(P, r_2)$, es decir:

$$\frac{|x + 3y - 1|}{\sqrt{10}} = \frac{|3x - y + 4|}{\sqrt{10}}$$

$$|x + 3y - 1| = |3x - y + 4| \begin{cases} \rightarrow x + 3y - 1 = 3x - y + 4 \rightarrow 2x - 4y + 5 = 0 \\ \rightarrow x + 3y - 1 = -3x + y - 4 \rightarrow 4x + 2y + 3 = 0 \end{cases}$$

Son dos rectas perpendiculares entre sí, que se cortan en el mismo punto que r_1 y r_2 .

Cuestión 5.-

Halla el lugar geométrico de los puntos, P , del plano cuya distancia a $A(2, 0)$ sea el doble de la distancia a $B(-1, 0)$. Identifica la figura resultante.

Solución:

Si $P(x, y)$ es un punto del lugar geométrico, tenemos que:

$dist(P, A) = 2 \cdot dist(P, B)$, es decir:

$\sqrt{(x-2)^2 + y^2} = 2\sqrt{(x+1)^2 + y^2}$. Elevamos al cuadrado y operamos:

$$x^2 - 4x + 4 + y^2 = 4(x^2 + 2x + 1 + y^2)$$

$$x^2 - 4x + 4 + y^2 = 4x^2 + 8x + 4 + 4y^2$$

$$3x^2 + 3y^2 + 12x = 0$$

$$x^2 + y^2 + 4x = 0$$

$(x+2)^2 + y^2 = 4$. Es una circunferencia de centro $(-2, 0)$ y radio 2.

Cuestión 6.-

Halla el lugar geométrico de los puntos del plano, $P(x, y)$, tales que el triángulo ABP sea rectángulo en P , siendo $A(2, 1)$ y $B(-6, 1)$. Interpreta la figura que obtienes.

Solución:

Para que el triángulo sea rectángulo en P , se ha de cumplir que:

$$\vec{PA} \perp \vec{PB} \Rightarrow \vec{PA} \cdot \vec{PB} = 0 \Rightarrow (2-x, 1-y) \cdot (-6-x, 1-y) = 0$$

$$(2-x)(-6-x) + (1-y)^2 = 0$$

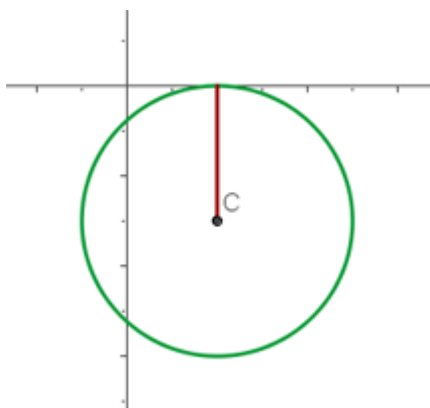
$$-12 - 2x + 6x + x^2 + 1 + y^2 - 2y = 0$$

$$x^2 + y^2 + 4x - 2y - 11 = 0; \text{ es decir:}$$

$$(x+2)^2 + (y-1)^2 = 16$$

Obtenemos una circunferencia de centro $(-2, 1)$ (que es el punto medio del segmento AB) y de radio 4.

Cuestión 7.- Calcula la ecuación de la circunferencia que tiene su centro en $(2, -3)$ y es tangente al eje de abscisas.

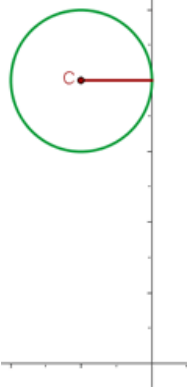


$C(2, -3)$

$s \equiv y = 0$

$$r = d(C, s) = 3 \rightarrow (x - 2)^2 + (y + 3)^2 = 3^2$$

Cuestión 8.- Calcula la ecuación de la circunferencia que tiene su centro en $(-1, 4)$ y es tangente al eje de ordenadas.

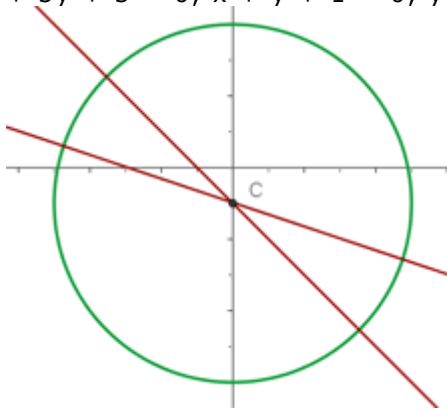


$$C(-1, 4)$$

$$s = x = 0 \rightarrow r = d(C, s) = 1 \rightarrow (x + 1)^2 + (y - 4)^2 = 1$$

Cuestión 9.-

Calcula la ecuación de la circunferencia que tiene su centro en el punto de intersección de las rectas $x + 3y + 3 = 0$, $x + y + 1 = 0$, y su radio es igual a 5.



$$\begin{cases} x + 3y + 3 = 0 \\ x + y + 1 = 0 \end{cases}$$

$$C(0, -1)$$

$$\rightarrow x^2 + (y + 1)^2 = 25$$

Cuestión 10.-

Halla la ecuación de la circunferencia que pasa por los puntos $A(-1, 2)$ y $B(1, 4)$ y tiene su centro en la recta $y = 2x$.

Solución:

Si tiene su centro en la recta $y = 2x$, las coordenadas de este son $C(x, 2x)$.

La distancia de A al centro ha de ser igual que la distancia de B al centro (esta distancia es el radio de la circunferencia):

$$\text{dist}(A, C) = \text{dist}(B, C)$$

$$\sqrt{(x+1)^2 + (2x-2)^2} = \sqrt{(x-1)^2 + (2x-4)^2}$$

$$x^2 + 2x + 1 + 4x^2 - 8x + 4 = x^2 - 2x + 1 + 4x^2 - 16x + 16$$

$$12x = 12 \rightarrow x = 1 \rightarrow y = 2$$

El centro de la circunferencia es $C(1, 2)$.

La ecuación será:

$$\text{El radio es: } r = \text{dist}(A, C) = \sqrt{4} = 2$$

$$\rightarrow (x - 1)^2 + (y - 2)^2 = 4$$

Cuestión 11.-

Halla la ecuación de la circunferencia tangente a la recta $4x + 3y - 25 = 0$ y cuyo centro es el punto de intersección de las rectas $3x - y - 7 = 0$ y $2x + 3y - 1 = 0$.

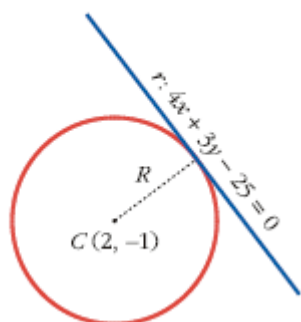
Solución:

Hallamos su centro:

$$\left. \begin{array}{l} 3x - y - 7 = 0 \\ 2x + 3y - 1 = 0 \end{array} \right\} \begin{array}{l} y = 3x - 7 \\ 2x + 3(3x - 7) - 1 = 0 \end{array}$$

$$2x + 9x - 21 - 1 = 0 \rightarrow 11x = 22 \rightarrow x = 2 \rightarrow y = -1$$

El centro es $C(2, -1)$.



El radio, R , es igual a la distancia del centro a la recta tangente:

$$R = \text{dist}(C, r) = \frac{|8 - 3 - 25|}{\sqrt{25}} = \frac{20}{5} = 4$$

La ecuación será:

$$(x - 2)^2 + (y + 1)^2 = 16$$

Cuestión 12.-

Obtén la ecuación de la circunferencia de radio 2 que pasa por los puntos $(1, 0)$ y $(3, 2)$.

Solución:

El centro de la circunferencia pertenece a la mediatriz del segmento de extremos $A(1, 0)$ y $B(3, 2)$:

– Puntomedio de A y $B \rightarrow M = \left(\frac{1+3}{2}, \frac{0+2}{2} \right) = (2, 1)$

– Pendentelarecta que pasa por A y $B \rightarrow m = \frac{2-0}{3-1} = \frac{2}{2} = 1$

– Pendentelamediatriz(perpendicular) $\rightarrow \frac{-1}{m} = \frac{-1}{1} = -1$

– Ecuación de la mediatriz:

$$y = 1 - 1(x - 2) \rightarrow y = 1 - x + 2 \rightarrow y = 3 - x$$

Las coordenadas del centro de la circunferencia son $C(x, 3 - x)$.

La distancia del centro a los puntos A y B debe ser igual a 2:

$$\text{dist}(A, C) = \sqrt{(x-1)^2 + (3-x)^2} = 2$$

$$x^2 - 2x + 1 + 9 - 6x + x^2 = 4 \rightarrow 2x^2 - 8x + 6 = 0 \rightarrow x^2 - 4x + 3 = 0$$

$$x = \frac{4 \pm \sqrt{16-12}}{2} = \frac{4 \pm \sqrt{4}}{2} = \frac{4 \pm 2}{2} \begin{cases} x=3 \rightarrow y=0 \\ x=1 \rightarrow y=2 \end{cases}$$

Hay dos soluciones:

- Centro $(3, 0)$ y radio 2:

$$(x-3)^2 + y^2 = 4 \rightarrow$$

- Centro $(1, 2)$ y radio 2:

$$(x-1)^2 + (y-2)^2 = 4$$

Cuestión 13.-

Halla la ecuación de la elipse conociendo:

a) $C(0,0)$, $F(2,0)$, $A(3,0)$

$$a = 3 \quad c = 2 \quad b = \sqrt{9-4} = \sqrt{5}$$

$$\frac{x^2}{9} + \frac{y^2}{5} = 1$$

b) $C(0,0)$, $F(0,4)$, $A(0,5)$

$$a = 5 \quad c = 4 \quad b = \sqrt{25-16} = 3$$

$$\frac{x^2}{9} + \frac{y^2}{25} = 1$$

Cuestión 14.- Escribe la ecuación reducida de la elipse que pasa por el punto $(2, 1)$ y cuyo eje menor mide 4.

$$2b = 4 \quad b = 2$$

$$\frac{2^2}{a^2} + \frac{1^2}{2^2} = 1 \quad a = \frac{4}{\sqrt{3}}$$

$$\frac{3x^2}{16} + \frac{y^2}{4} = 1$$

Cuestión 15.- La distancia focal de una elipse es 4. Un punto de la elipse dista de sus focos 2 y 6, respectivamente. Calcular la ecuación reducida de dicha elipse.

$$2c = 4 \quad c = 2$$

$$2a = 2 + 6 \quad a = 4$$

$$b = \sqrt{16-4} = \sqrt{12} \quad b = 2\sqrt{3}$$

$$\frac{x^2}{16} + \frac{y^2}{12} = 1$$

Cuestión 16.- Escribe la ecuación reducida de la elipse que pasa por los

puntos: $\left(1, \frac{\sqrt{3}}{2}\right)$ y $\left(\sqrt{2}, \frac{\sqrt{2}}{2}\right)$.

$$\begin{cases} \frac{1}{a^2} + \frac{3}{4b^2} = 1 \\ \frac{2}{a^2} + \frac{2}{4b^2} = 1 \end{cases}$$

$$a = 2 \quad b = 1$$

$$\frac{x^2}{4} + y^2 = 1$$